

二年级数学

时间:60分钟 满分:100分

题号	一	二	三	四	五	总分
得分						

一、填空。(每空1分,共24分)

1. 可可鲜花店的李阿姨正在忙着包装康乃馨。



$$27 \div (\quad) = (\quad) \text{ (束)} \cdots \cdots 3 \text{ (枝)}$$

$$27 \div (\quad) = (\quad) \text{ (枝)} \cdots \cdots 3 \text{ (枝)}$$

2. 由5个千、6个百和3个一组成的数是(),这个数读作()。

3. 实验小学每天的广播体操从9:40开始,10分钟后结束,结束时间是()。

4. 数一数,右图中共有()个角,其中有()个锐角,
()个直角和()个钝角。



5. 从4、6、0、2中选出三张数字卡片组成不同的三位数,其中最大的三位数与最小的三位数的和是(),它们的差是()。

6. 在()里填上合适的单位。

(1)教室里的黑板长约4()。

(2)小学生每天的睡眠时间至少是9()。

(3)5枚1元硬币摞在一起的厚度大约是10()。

(4)明明跑50米所用的时间是12()。

7. $\star \div 6 = 7 \cdots \cdots \bigcirc$, \bigcirc 最大是(),此时 \star 是()。

8. 聪聪每天下午放学回家面对着夕阳走,此时他右边的方向是()面。

9. 找规律,填一填。

(1)2970,2980,2990,(),()。

(2)(),8000,8050,8100,()。

二、选择。(将正确答案的序号填在括号里)(12分)

1. 下列选项中一分钟可以完成的是()。

- ①做15个仰卧起坐 ②做200道口算题 ③写一篇200字的日记

2. 乐乐拿放大镜看数学书上的一个角,这个角会()。

- ①变大 ②不变 ③变小

3. $7\square\square - 3\square\square$ 的差,最小是()。

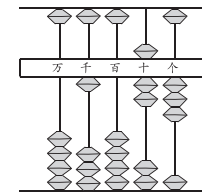
- ①四百多 ②三百多 ③二百多

4. 下面算盘上表示的数是()。

①1033

②173

③1073



5. 造型优美的中国结是中国特有的民间手工编织工艺品,深受人们的喜爱。编一个中国结需要7分米长的红绳,一条4米长的红绳最多能编()个这样的中国结。

- ①4 ②5 ③6

6. 坚持练习书法可以培养专注力,提升学习效率。周末,明明写了16个大字,红红写了20个大字。红红写的比明明()。

- ①多得多 ②少一些 ③多一些

三、计算。(28分)

1. 直接写出得数。(12分)

$80 + 190 =$	$84 - 47 =$	$150 - 80 =$	$26 + 49 =$
$54 \div 6 =$	$1000 - 800 =$	$45 + 38 =$	$570 - 30 =$
$72 - 39 =$	$440 - 400 =$	$27 + 64 =$	$600 + 500 =$

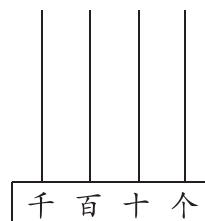
2. 用竖式计算,带 \star 的要验算。(16分)

$61 \div 9 =$	$700 - 566 =$	$\star 487 + 293 =$
---------------	---------------	---------------------

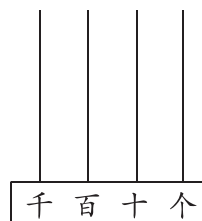
$$298 + 405 = \quad 136 + 359 - 198 = \quad \star 304 - 208 =$$

四、按要求完成下面各题。(11分)

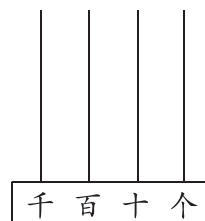
1. 在计数器上用 2 个珠子表示出 3 个不同的四位数,再写出来。(3分)



()



()



()


2. 请你写出钟面上的时刻。(3分)



()



()

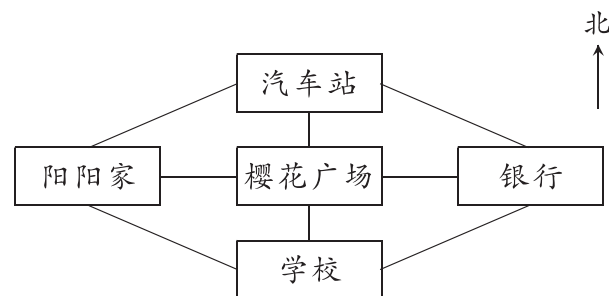


()

3. 认识方向。(5分)

(1) 阳阳家在汽车站的()面,汽车站在银行的()面,樱花广场在阳阳家的()面。

(2) 阳阳从家直接去学校,要向()面走;阳阳的妈妈从家经樱花广场到银行,要向()面走。



五、解决问题。(25分)

1. 六一儿童节快要到了,王阿姨送给幼儿园小朋友们 50 个漂亮的窗花。每个班级分 6 个,可以分给几个班级,还剩几个?(4分)

2. 汝瓷是河南省汝州市特产,以玛(mǎ)瑙(nǎo)入釉(yòu),色泽独特,有“玛瑙为釉古相传”的赞誉。王爷爷要用 550 元从网上购买下面两件汝瓷摆件,钱够吗? 如果够,还剩多少钱? 如果不够,还差多少钱?

(先估一估,再算一算)(4分)



白菜瓶
298 元



弦纹樽
228 元

3. 每年的 6 月 5 日为世界环境日。实验小学二年级开展了回收废电池的活动。经过一个月的努力,二(1)班回收废电池 117 节,二(2)班回收废电池的数量比二(1)班少 24 节,又比二(3)班少 38 节。二(3)班回收废电池多少节?(5分)

4. 在准备经典诵读比赛时,奇奇每天晨读《弟子规》。这本书一共 360 句,奇奇第一天读了 164 句,还有多少句没有读?(5分)



5. 分类整理。(7分)



(1) 分类整理上面的词语。

按字数分:

两个字	三个字
()个	()个

按种类分:

食物	植物	动物
()个	()个	()个

(2) 无论按照哪种方法分类,词语的总个数是()的(填“变化”或“不变”),一共有()个词语。